

CONCURSO PÚBLICO PARA PROVIMENTO DE CARGOS DE TÉCNICO-ADMINISTRATIVOS EM EDUCAÇÃO DO  
INSTITUTO FEDERAL DO SERTÃO PERNAMBUCANO

EDITAL Nº 32/2019

CADERNO DE PROVAS | CARGO – **TÉCNICO DE LABORATÓRIO/ ÁREA EDIFICAÇÕES**

**INSTRUÇÕES**

- As instruções constantes neste Caderno de Provas e na Folha de Respostas da Prova Objetiva de Múltipla Escolha, bem como as orientações e instruções expedidas pela Comissão Organizadora do Concurso durante a realização das provas, complementam o Edital do Concurso e deverão ser rigorosamente observadas e seguidas pelo candidato.
- O candidato deverá estar munido de caneta esferográfica de tinta azul ou preta, fabricada em material transparente. Não é permitido o uso de lápis, lapiseira, marca-texto, borracha ou líquido/fita corretora de texto.
- A duração da prova é de **3 (três) horas**, abrange a assinatura da Folha de Respostas e a transcrição das respostas do Caderno de Questões para a Folha de Respostas.
- Este Caderno de Prova é constituído de **50 (cinquenta) questões objetivas numeradas de 1 a 50**, cada uma com **05 (cinco) alternativas**. Para cada questão existe apenas uma alternativa que a responde acertadamente.
- O candidato deverá verificar as informações contidas no Cartão de Respostas e no Caderno de Provas, se constatar algum erro ou incompletude solicite imediatamente ao fiscal a substituição.
- Em hipótese alguma haverá substituição do Cartão de Respostas por erro do candidato.
- Na Prova Objetiva de Múltipla Escolha, será atribuída pontuação 0,00 (zero) às questões
  - com mais de uma opção assinalada;
  - sem opção marcada;
  - com rasuras ou preenchidas a lápis.
- O cartão resposta deve ser marcado conforme o exemplo: (A) ● (C) (D) (E)
- O candidato somente poderá se retirar do recinto de aplicação da prova depois de decorridos 60 (sessenta) minutos do seu início, e somente poderá levar consigo o caderno de provas quando restarem 30 (trinta) minutos para o término da aplicação.
- Durante a realização da Prova não será permitida a comunicação entre os candidatos, bem como consulta de qualquer natureza. Também não é permitido o uso de relógio de qualquer espécie, aparelhos eletrônicos ou eletromecânicos, boné, boina, chapéu, gorro, lenço ou qualquer outro acessório que impeça a visão total das orelhas do candidato; não será permitido o uso de óculos escuros. O descumprimento de qualquer dessas determinações implicará a eliminação do candidato.
- Ao término da prova, o candidato entregará ao fiscal o Cartão de Respostas devidamente assinado no local apropriado.
- Os três últimos candidatos deixarão a sala de prova todos de uma só vez após a assinatura da Ata de Sala atestando a idoneidade da fiscalização.
- O candidato poderá ser submetido a revista com detector de metais durante a realização das provas.
- Os Cadernos de Provas estarão disponíveis no endereço eletrônico [www.ifsertao-pe.edu.br](http://www.ifsertao-pe.edu.br), no dia seguinte à realização das provas.
- O Gabarito da Prova Objetiva de Múltipla Escolha será disponibilizado a partir do dia **26/08/2019**, no endereço eletrônico [www.ifsertao-pe.edu.br](http://www.ifsertao-pe.edu.br).

**RASCUNHO**

CORTE AQUI

---

**Caso queira levar a marcação do gabarito, sem o caderno de provas, utilize este espaço e destaque apenas esta parte da página.  
Este espaço é apenas para uso do candidato, não será utilizado para correção da prova!**

**ESPAÇO RESERVADO PARA MARCAÇÃO DE GABARITO**

1.	2.	3.	4.	5.	6.	7.	8.	9.	10.
11.	12.	13.	14.	15.	16.	17.	18.	19.	20.
21.	22.	23.	24.	25.	26.	27.	28.	29.	30.
31.	32.	33.	34.	35.	36.	37.	38.	39.	40.
41.	42.	43.	44.	45.	46.	47.	48.	49.	50.

**Texto I para as questões 1 e 2**

Quem não lê não escreve

É alarmante o fato de que apenas 1% dos alunos brasileiros da 3ª série do Ensino Médio (ou seja, os que se preparam para ingressar na universidade) tenha domínio adequado do idioma português. O resultado, expresso em pesquisa do Sistema Nacional de Avaliação da Educação Básica (Saeb), deve servir de alerta para os responsáveis pela gestão do ensino, os professores e os pais de alunos.

Observa-se no país, contudo, uma perigosa desvalorização da cultura básica, da erudição e do conhecimento. Já sem cultura básica, nossos jovens também não são estimulados à leitura de jornais e revistas, que também se constituem em fonte imprescindível de informação e formação.

Os estudantes sabem manipular com habilidade os microcomputadores, em casa e, de forma crescente, também nas escolas, públicas e privadas. "Navegam" com fluidez na Internet, mas não são capazes de interpretar um texto de Machado de Assis; são verdadeiros ases das artes marciais dos jogos eletrônicos virtuais, mas não conseguem redigir um texto com princípio, meio e fim, estilo, forma e linguagem; "conversam" com colegas de outros continentes, via modem, mas atentam contra o idioma com seu pobre vocabulário.

Nossos jovens têm acesso a todos os canais da era da informação, mas não têm informação. As escolas brasileiras não possuem bibliotecas. As raras existentes são incompletas e, o que é pior, pouco frequentadas. Em casa, a leitura de livros, igualmente, não é estimulada. Nada contra a informática, a multimídia e a realidade virtual. É inadmissível, porém, a ausência de formação intelectual e a alienação diante da realidade tangível.

Para reverter esse quadro, não basta oferecer aos alunos os imprescindíveis livros didáticos. É preciso oferecer-lhes incentivo e meios de lerem os principais autores nacionais e estrangeiros, da literatura de ficção e não-ficção, jornais, revistas e obras científicas e humanísticas. Bill Gates, o multimilionário gênio da informática, sem qualquer constrangimento, afirmou: "Meus filhos terão computadores, sim, mas antes terão livros". Sem livros, sem leitura, os nossos filhos serão incapazes de escrever – inclusive a sua própria história.

Adaptado do texto de Wander Soares, vice-presidente da Abrelivros (Associação Brasileira dos Editores de Livros), diretor-adjunto da CBL (Câmara Brasileira do Livro) e diretor de marketing da editora Saraiva. Texto publicado na folha de São Paulo, no dia 24 de fevereiro de 1997.

**1.** Leia as proposições abaixo sobre o texto I e assinale a afirmativa correta quanto à tipologia textual:

- A) Trata-se de um texto narrativo-reflexivo cuja temática é a importância da leitura para a formação dos jovens brasileiros.
- B) O texto apresenta uma descrição subjetiva, pois descreve com perfeição o perfil dos estudantes brasileiros que se preparam para ingressar na universidade, apenas 1% deles dominam o idioma Português.

C) No texto I encontramos uma série de instruções para o estudante reverter o quadro de ineficiência no domínio da linguagem. Por essa razão temos um texto injuntivo.

D) Trata-se de um texto dissertativo, pois encontramos uma série de argumentos fundamentando a ideia de que uma ínfima parte dos estudantes que se preparam para entrar na universidade dominam o idioma Português.

E) Trata-se de um texto Injuntivo instrucional, isso se percebe pela presença da citação de Bill Gates

**2.** Fazendo-se a análise de alguns aspectos textuais, marque a alternativa ERRADA referente ao texto I:

A) A oração "Navegam" com fluidez na Internet", presente no terceiro parágrafo, apresenta um recurso de coesão textual definido como elipse, o sujeito dessa oração encontra-se na oração anterior.

B) Na oração: "É preciso oferecer-lhes incentivo", presente no último parágrafo do texto, o pronome "lhe" é elemento de coesão referencial, fazendo referência ao termo livro na oração anterior.

C) Há nesse texto alguns tipos de argumentos para fortalecer a tese de que apenas 1% dos estudantes brasileiros das séries finais do ensino médio dominam o idioma Português. Argumento por constatação, por comparação, por exemplificação.

D) Na conclusão do texto, o autor procura apresentar uma perspectiva de solução para a problemática discutida, além de fazer uso de uma citação para fortalecer a tese discutida.

E) No terceiro parágrafo, o autor fala das habilidades e deficiências que os alunos apresentam. São capazes de navegar com fluidez na Internet, mas não são capazes de interpretar um texto de um autor da literatura clássica.

**3.** Marque a alternativa correta em relação às possibilidades gramaticais:

A) "É alarmante o fato de que apenas 1% dos alunos brasileiros da 3ª série domina o idioma Português". Sem prejuízo à norma culta, essa oração também poderia ser escrita assim: É alarmante o fato de que apenas 1% dos alunos brasileiros da 3ª série dominam o idioma Português".

B) "Nossos jovens têm acesso a todos os canais da era da informação, mas não têm informação". Nessa construção, poderíamos retirar o acento do verbo "ter" sem nenhum prejuízo gramatical, pois trata-se apenas de um acento diferencial.

C) "Observa-se no país, contudo, uma perigosa desvalorização da cultura básica, da erudição e do conhecimento". Se as vírgulas e o conectivo "contudo" fossem completamente retirados dessa construção oracional, haveria uma quebra nas relações sintáticas.

D) Na construção sintática "É preciso oferecer-lhes incentivo", o verbo oferecer é um verbo bitransitivo, o "lhe" funciona como objeto direto, pois é o mais próximo do verbo, e "incentivo" como objeto indireto, pois está mais distante.

E) “Nossos jovens têm acesso a todos os canais da era da informação, mas não têm informação”. Nessa oração, o conectivo “mas” poderia perfeitamente ser substituído pela conjunção de ligação “e” sem causar nenhuma alteração semântica.

## Texto II para as questões de 4 a 7

### Agricultura urbana

Maurício Antônio Lopes

O processo de urbanização traz óbvios benefícios para a sociedade, especialmente quando conduzido de forma planejada e inteligente. As cidades podem alcançar alta densidade de atividade econômica, relações comerciais mais eficientes, infraestrutura compartilhada, melhor divisão de trabalho, melhor utilização da força produtiva, acesso à educação, lazer e bem-estar, dentre muitos outros benefícios. Por isso, é natural que tais atrativos continuem a acelerar o crescimento das cidades no futuro.

Mas muitos problemas se acumulam quando o processo de urbanização ocorre de forma desordenada e pouco planejada – realidade infelizmente comum em todas as partes do globo. Em 1960, cerca de 2 bilhões de pessoas viviam em ambientes rurais e 1 bilhão em cidades. Em 2007, as populações rurais e urbanas se equalizaram em cerca de 3,33 bilhões de pessoas. Hoje, 55% da população mundial vive em áreas urbanas, proporção que deve aumentar para 68% até 2050.

O quadro de urbanização acelerada e frequentemente desordenada está causando toda sorte de problemas ao redor do mundo. Até 2030, estima-se que o planeta terá 43 megacidades com população superior a 10 milhões de pessoas, a maioria em regiões que não conseguirão criar oportunidades de empregos suficientes, em especial para a população mais pobre. Inevitável também é o crescimento dos problemas relacionados a moradia, transporte, lixo e esgotos, qualidade do ar, dentre muitos outros.

Diante desse quadro de perplexidade com os múltiplos problemas gerados pelo crescimento desordenado das cidades, o tema agricultura urbana e periurbana ganha força, como estratégia complementar para a redução da insegurança alimentar e da pobreza e para melhoria da gestão ambiental rural.

De modo a se tornarem sustentáveis e resilientes, as cidades precisarão ser socialmente inclusivas, produtivas e ambientalmente saudáveis. E na condição de atividade essencialmente multifuncional, a agricultura pode contribuir enormemente para a superação de muitos dos problemas gerados pela urbanização, nas dimensões econômica, social e ambiental.

[...]

*Revista Globo Rural, Julho 2019, p. 40*

4. De acordo com as normas de concordância verbal, a única alternativa cuja análise acerca da forma verbal destacada foi feita de forma correta é:

A) “O quadro de urbanização acelerada e frequentemente desordenada está causando toda sorte de problemas ao redor do mundo.”

- O verbo “está” concorda em número e pessoa com o núcleo do seu sujeito, que é “urbanização”.

B) “Hoje, 55% da população mundial vive em áreas urbanas[...]”

- A forma verbal “vive” pode ser flexionada também no plural, concordando com a expressão numérica que constitui o núcleo do sujeito.

C) “[...] o tema agricultura urbana e periurbana ganha força, como estratégia complementar para a redução da insegurança alimentar e da pobreza [...]”

- É correta, também, a flexão da forma verbal “ganha” no plural, concordando com “urbana e periurbana”.

D) “Em 1960, cerca de 2 bilhões de pessoas viviam em ambientes rurais e 1 bilhão em cidades.”

- A flexão do verbo “viviam” pode ser feita também no singular, concordando com a expressão “cerca de”.

E) “Em 2007, as populações rurais e urbanas se equalizaram em cerca de 3,33 bilhões de pessoas.”

- A forma verbal “equalizaram” concorda, no plural, com a expressão numérica “3,33 bilhões de pessoas”.

5. Considerando o processo empregado na formação da palavra destacada em cada item, podemos afirmar que, dentre elas, a única que não decorre da junção de um prefixo ao radical é:

A) infraestrutura compartilhada

B) urbanização acelerada e frequentemente desordenada

C) 43 megacidades com população superior a 10 milhões de pessoas

D) agricultura urbana e periurbana

E) atividade essencialmente multifuncional

6. Considere o trecho abaixo:

“De modo a se tornarem sustentáveis e resilientes, as cidades precisarão ser socialmente inclusivas, produtivas e ambientalmente saudáveis.”

No trecho, há uma sequência de adjetivos que determinam o substantivo “cidades”. Dentre eles, destacamos aqui o atributo “resiliente” que, semanticamente, remete à/ao:

A) Valorização da diversidade cultural.

B) Conhecimento profundo de vários assuntos.

C) Capacidade de prever problemas e antecipar soluções.

D) Atitude positiva e força para superar desafios.

E) Reconhecimento do potencial humano.

7. Considere a reescrita do trecho transcrito em cada item, atentando para a alteração do termo destacado.

I - [...] muitos problemas se acumulam quando o processo de urbanização ocorre de forma desordenada.

[...] bastantes problemas se acumulam quando o processo de urbanização ocorre de forma desordenada.

II - O quadro de urbanização acelerada e frequentemente desordenada está causando toda sorte de problemas [...]

O quadro de urbanização e crescimento acelerados e frequentemente desordenados está causando toda sorte de problemas [...]

III - [...] problemas gerados pela urbanização, nas dimensões econômica, social e ambiental.

[...] problemas gerados pela urbanização, na dimensão econômica, social e na ambiental.

De acordo com as normas de concordância nominal, pode-se afirmar que está correta a reescrita feita em:

- A) Somente I e III
- B) Somente II e III
- C) Somente I
- D) Somente II
- E) Todos os itens.

8. Analise as alternativas e marque aquela que não apresenta impropriedade gramatical.

A) Se observa no Brasil, uma perigosa desvalorização da cultura básica.

B) Estes são os alunos cujo o desempenho linguístico não é satisfatório.

C) Nossos alunos não são estimulados a busca do conhecimento.

D) A importância da leitura, esse é o tema a que os textos fazem referência.

E) Os alunos que visam uma vaga na universidade, precisam ampliar a vivência de leitura.

9. Na oração "Observa-se no país, contudo, uma perigosa desvalorização da cultura básica". A partícula "se" é:

- A) Índice de indeterminação do sujeito
- B) Partícula apassivadora
- C) Parte integrante do verbo
- D) Conjunção condicional
- E) Partícula integradora

10. Assinale a alternativa que não apresenta correta análise quanto à relação de sentido que o elemento conector estabelece nos enunciados a seguir.

- A) Como sou uma velhinha que treme e derrama tudo, eu não posso tomar sopa. – Causa
- B) Passa a colher para que eu te dê a sopa. – Finalidade
- C) Embora seja uma velhinha, eu não sou boba. – Concessão
- D) Eu sou uma velhinha, porém não sou boba. – Adversidade
- E) Eu não posso tomar sopa, já que sou uma velhinha que treme e derrama tudo. – Consequência

## LEGISLAÇÃO

11. A respeito dos Direitos e Garantias Fundamentais previstos na Constituição Federal de 1988, marque a alternativa correta:

A) É reconhecida a instituição do júri, com a organização que lhe der a lei, assegurados: a plenitude de defesa; o sigilo das votações; a irrecorribilidade das decisões; a soberania dos veredictos; e a competência para o julgamento dos crimes dolosos contra a vida.

B) A casa é asilo inviolável do indivíduo, ninguém nela podendo penetrar sem consentimento do morador, salvo em caso de flagrante delito ou desastre, ou para prestar socorro, ou, durante o dia, por determinação judicial.

C) Todos têm direito a receber dos órgãos públicos todas as informações de seu interesse particular ou de interesse coletivo ou geral, ressalvadas, neste último caso, aquelas cujo sigilo seja imprescindível à segurança da sociedade e do Estado.

D) Segundo a Constituição Federal Brasileira, é inadmissível a pena de morte, em qualquer caso.

E) Todos podem reunir-se pacificamente, sem armas, em locais abertos ao público, desde que não frustrem outra reunião anteriormente convocada para o mesmo local, sendo apenas exigida prévia autorização da autoridade competente.

12. Mariana foi aprovada em concurso público para provimento de cargo técnico-administrativo em educação de determinado Instituto Federal. Acerca do regime disciplinar instituído pela Lei nº 8.112, de 1990, é correto afirmar:

A) A obrigação de reparar o dano ocasionado por ato omissivo ou comissivo enquanto Mariana for servidora jamais poderá ser estendida aos seus sucessores e contra eles não poderá ser executada.

B) Mariana não poderá participar de gerência ou administração de sociedade privada, personificada ou não personificada, exercer o comércio, ainda que na qualidade de acionista, cotista ou comanditária.

C) Caso Mariana acumule cargos públicos, de forma lícita, fica condicionada à comprovação da compatibilidade de horários.

D) Detectada a qualquer tempo a acumulação ilegal de cargos, empregos ou funções públicas, a autoridade competente deverá adotar procedimento sumário para apuração e regularização, caso o cargo que a servidora exerce no âmbito do Instituto Federal seja o mais recente.

E) Na hipótese de Mariana ausentar-se do serviço por mais de vinte dias consecutivos, ficará configurado o abandono de cargo, que deverá ser apurado através de procedimento sumário.

13. Nos moldes da Lei nº 8.112/1990, que dispõe sobre o regime jurídico dos servidores públicos civis da União, das autarquias e das fundações públicas federais, é correto afirmar:

A) Da sindicância poderá resultar o arquivamento do processo; a aplicação de penalidade de advertência ou suspensão de até 30 (trinta) dias; ou a instauração de processo disciplinar.

B) Inassiduidade habitual é a falta ao serviço, sem causa justificada, por trinta dias, interpoladamente, durante o período de doze meses.

C) Os adicionais de insalubridade e de periculosidade poderão ser recebidos cumulativamente por servidores que trabalhem em locais insalubres ou em contato permanente com substâncias tóxicas, radioativas ou com risco de vida.

D) Será afastado do cargo o servidor investido em mandato eletivo de Deputado Federal, sendo-lhe facultado optar pela sua remuneração.

E) Quando a junta médica oficial do órgão concluir que os motivos da aposentadoria por invalidez são insubsistentes, o servidor retornará à atividade, o que se denomina readaptação.

**14.** A Lei nº 11.091, de 2005, dispôs sobre a estruturação do Plano de Carreira dos Cargos Técnico-Administrativos em Educação. Com base na referida lei, analise se as assertivas abaixo são verdadeiras (V) ou falsas (F) e assinale a alternativa que corresponde à sequência correta, de cima para baixo.

( ) A garantia de programas de capacitação que contemplem a formação específica e a geral, nesta incluída a educação formal, constitui-se num princípio e numa diretriz da gestão dos cargos do Plano de Carreiras.

( ) De acordo com o art. 5º da Lei nº 11.091, de 2005, usuários são pessoas ou coletividades internas ou externas à Instituição Federal de Ensino que usufruem apenas diretamente dos serviços por ela prestados.

( ) Planejar, organizar, executar ou avaliar as atividades inerentes ao apoio técnico-administrativo é expressamente um princípio da gestão dos cargos do Plano de Carreira.

( ) Progressão por Mérito Profissional é a mudança para o padrão de vencimento imediatamente subsequente, a cada 2 (dois) anos de efetivo exercício, desde que o servidor apresente resultado fixado em programa de avaliação de desempenho, observado o respectivo nível de capacitação.

A) V, V, F, V.

B) V, F, V, V.

C) V, F, F, F.

D) V, F, F, V.

E) V, V, V, V.

**15.** A Lei nº 11.892, de 29 de dezembro de 2008, instituiu a Rede Federal de Educação Profissional, Científica e Tecnológica, e criou os Institutos Federais de Educação, Ciência e Tecnologia, estabelecendo em seu texto finalidades e características dessas Autarquias, a exemplo de:

A) Ministrar educação profissional técnica de nível médio, prioritariamente na forma de cursos integrados, para os concluintes do ensino fundamental e para o público da educação de jovens e adultos.

B) Promover a produção, o desenvolvimento e a transferência de tecnologias sociais, notadamente as voltadas à preservação do meio ambiente.

C) Ministrar cursos de formação inicial e continuada de trabalhadores, objetivando a capacitação, o aperfeiçoamento, a especialização e a atualização de profissionais, em todos os

níveis de escolaridade, nas áreas da educação profissional e tecnológica.

D) Realizar pesquisas aplicadas, estimulando o desenvolvimento de soluções técnicas e tecnológicas, estendendo seus benefícios à comunidade.

E) Desenvolver atividades de extensão de acordo com os princípios e finalidades da educação profissional e tecnológica, em articulação com o mundo do trabalho e os segmentos sociais, e com ênfase na produção, desenvolvimento e difusão de conhecimentos científicos e tecnológicos.

**16.** No que tange ao Art. 3º da Lei nº 8.666, de 21 de junho de 1993, que trata dos princípios norteadores das licitações e contratos, marque a alternativa correta:

A) A licitação não será sigilosa, sendo públicos e acessíveis ao público os atos de seu procedimento, até mesmo quanto ao conteúdo das propostas, independente da respectiva abertura.

B) Nos processos de licitação, poderá ser estabelecida margem de preferência, a critério da Administração e sob sua estrita conveniência, para produtos manufaturados e para serviços nacionais que atendam a normas técnicas brasileiras e internacionais de qualidade.

C) A licitação destina-se a garantir a observância do princípio constitucional da isonomia, a seleção da proposta mais vantajosa para a administração, e sempre que possível a promoção do desenvolvimento regional sustentável.

D) Em igualdade de condições, como critério de desempate, será assegurada preferência, exclusivamente, aos bens e serviços produzidos no país.

E) As margens de preferências definidas no art. 3º da Lei nº 8.666, de 1993, e nas demais normas de licitação e contratos devem privilegiar o tratamento diferenciado e favorecido às microempresas e empresas de pequeno porte.

**17.** A respeito da Lei nº 8.429, de 02 de junho de 1992, mais conhecida como Lei de Improbidade Administrativa, analise se as assertivas abaixo são verdadeiras (V) ou falsas (F) e assinale a alternativa que corresponde à sequência correta, de cima para baixo.

I - A lei de improbidade também será aplicada aos particulares que de alguma forma concorreram, induziram ou se beneficiaram, direta ou indiretamente, pela prática do ato de improbidade.

II - A configuração do ato de improbidade independe de efetivo dano patrimonial.

III - O ato de improbidade praticado com dano ao erário, tipificado no art. 10 da Lei nº 8.429/92, é a única modalidade prevista na referida lei que aceita expressamente que o agente seja punido se agiu com dolo ou culpa.

IV - As penas de perda da função e suspensão dos direitos políticos se efetivam com a publicação da sentença condenatória.

A) V, F, F, V.

B) F, V, F, F.

C) F, V, V, V.

D) V, V, V, F.

E) F, V, F, V.

**18.** De acordo com os termos do Código de Ética Profissional do Servidor Público Civil do Poder Executivo Federal (Decreto nº 1.171, de 1994), é incorreto afirmar que:

A) É um dever fundamental do servidor público exercer suas atribuições com rapidez, perfeição e rendimento, pondo fim ou procurando prioritariamente resolver situações procrastinatórias, principalmente diante de filas ou de qualquer outra espécie de atraso na prestação dos serviços pelo setor em que exerça suas atribuições, com o fim de evitar dano moral ao usuário.

B) A publicidade de qualquer ato administrativo constitui requisito de eficácia e moralidade, ensejando sua omissão comprometimento ético contra o bem comum, imputável a quem a negar, salvo os casos de segurança nacional, investigações policiais ou interesse superior do Estado e da Administração Pública, a serem preservados em processo previamente declarado sigiloso, nos termos da lei.

C) É vedado ao servidor sob qualquer condição retirar da repartição pública qualquer documento, livro ou bem pertencente ao patrimônio público sem que esteja legalmente autorizado.

D) O Decreto nº 1.171/1994 afirma que o servidor público é todo aquele que, por força de lei, contrato ou de qualquer ato jurídico, preste serviços de natureza permanente, temporária ou excepcional, com ou sem retribuição financeira, desde que ligado direta ou indiretamente a qualquer órgão do poder estatal, como as autarquias, as fundações públicas, as entidades paraestatais, as empresas públicas e as sociedades de economia mista, ou em qualquer setor onde prevaleça o interesse do Estado.

E) Censura é a pena aplicada ao servidor em razão do descumprimento às normas éticas definidas pelo Decreto nº 1.171/1994, cuja fundamentação deverá constar em parecer devidamente fundamentado e assinado por todos os integrantes da Comissão de Ética, devendo ser submetido à autoridade competente para ciência e concordância, que, por sua vez, poderá determinar o envio aos assentamentos funcionais do servidor.

**19.** Considere as seguintes situações:

I - Funcionário público retarda a prática de um ato de ofício após receber apelo de um amigo para a protelação deste ato, pois o referido amigo seria prejudicado.

II - Funcionário público que se apropria de itens de merenda escolar, como arroz e feijão, para a realização de evento pessoal em sua residência.

III - Funcionário Público que exige valor em dinheiro para desobrigar particular do pagamento de multa administrativa.

Tais situações constituem, respectivamente, os crimes contra a Administração Pública de:

A) prevaricação – peculato – corrupção passiva.

B) corrupção passiva – emprego irregular de verbas ou rendas públicas – corrupção passiva.

C) corrupção passiva – peculato – concussão.

D) prevaricação – emprego irregular de verbas ou rendas públicas – concussão.

E) condescendência criminoso – facilitação de contrabando ou descaminho – excesso de exação.

**20.** Considerando a gestão do IF Sertão-PE e do que disciplina o seu Estatuto, julgue os itens a seguir:

I - A Reitoria é o órgão executivo do IF Sertão-PE, cabendo-lhe a administração, coordenação e supervisão de todas as atividades da Autarquia.

II - A Auditoria Interna do IF Sertão-PE é um órgão vinculado ao Gabinete da Reitoria, e que desenvolve uma atividade independente e objetiva de consultoria e avaliação dos atos de gestão praticados no âmbito da Instituição, desenhada para avaliar e melhorar a eficácia dos processos de governança, de gerenciamento de riscos, de controles e de integridade. Ainda, auxilia os órgãos do Sistema de Controle Interno do Poder Executivo Federal e o Tribunal de Contas da União, no exercício de sua missão institucional.

III - A Procuradoria Federal é o órgão de execução da Procuradoria Geral Federal responsável pela representação judicial e extrajudicial da Autarquia e pelas atividades de consultoria e assessoramento jurídicos, a apuração da liquidez e certeza dos créditos, de qualquer natureza, inerentes às suas atividades, inscrevendo-os em dívida ativa, para fins de cobrança amigável ou judicial, observada a legislação vigente.

IV - Os Campi do IF Sertão-PE são administrados por Diretores(as)-Gerais e tem seu funcionamento estabelecido por ato conjunto de seus Diretores e do Reitor.

V - As Pró-Reitorias do IF Sertão-PE, dirigidas por Pró-Reitores nomeados pelo Reitor, são órgãos executivos que planejam, superintendem, coordenam, fomentam e acompanham as atividades no âmbito de toda a instituição.

A quantidade de itens corretos é igual a:

A) 1.

B) 2.

C) 3.

D) 4.

E) 5.

## RACIOCÍNIO LÓGICO

**21.** Se é verdade que algum jornalista é honesto e que nenhum homem é honesto, pode-se afirmar que:

A) Algum jornalista é homem.

B) Nenhum jornalista é homem.

C) Algum jornalista não é homem.

D) Algum homem é jornalista.

E) Nenhum homem é jornalista.

**22.** Um fazendeiro possui razão suficiente para alimentar suas 14 galinhas durante 54 dias. Após 18 dias, ele vende 5 galinhas. Passados mais 12 dias, ele compra 13 galinhas. Quantos dias, no total, durou sua reserva de ração?

- A) 44
- B) 46
- C) 48
- D) 50
- E) 52

**23.** Nas estruturas lógico-matemáticas, uma proposição é definida como “Um conjunto de palavras ou símbolos que exprimem um pensamento de sentido completo”. Indique a alternativa que NÃO apresenta uma proposição, segundo a definição dada.

- A) A terra é plana.
- B) É falso que  $2 + 3 = 4$ .
- C) 7 é maior ou igual a 5.
- D) Recife é a capital de Pernambuco.
- E) Sente-se, por favor!

**24.** Envolvendo a questão de silogismo, leia com atenção as premissas P1 e P2, bem como a conclusão C. É verdade que:

- P1 - Todo engenheiro fiscaliza.
- P2 - José está fiscalizando.

C - Conclui-se que José é engenheiro.

- A) Trata-se de uma conclusão válida.
- B) Trata-se de uma conclusão inválida.
- C) José estando fiscalizando, é engenheiro certamente.
- D) Engenheiros não fiscalizam.
- E) José é técnico em edificações.

**25.** A respeito da “tautologia”, pode-se afirmar que:

- A) Trata-se de uma proposição formada unicamente por duas proposições, sendo uma delas positiva e outra negativa.
- B) Trata-se de uma proposição formada por duas ou mais proposições. Se ela for sempre verdadeira.
- C) Trata-se de mais de uma proposição em que uma delas é verdadeira e outra falsa.
- D) Trata-se de uma proposição formada por duas ou mais proposições, necessariamente falsas.
- E) Trata-se de um conjunto de proposições, necessariamente em igual número de proposições verdadeiras e falsas, não importando a ordem.

## INFORMÁTICA

**26.** Acerca do Windows 10, julgue os itens a seguir:

I - No Windows 10 o usuário poderá manipular arquivos. Todo arquivo deve ter um nome que o identifica e este é dividido em duas partes, o identificador que é o nome dado pelo usuário, um ponto “.” que é obrigatório, e a extensão que indica o tipo de arquivo. Formando a estrutura identificador.extensão.

II - Os arquivos nomeados no sistema Windows 10 podem conter quaisquer caracteres, inclusive os seguintes: \ / : ? “ !

III - Uma forma de organizar os arquivos no Windows 10 é através da criação de pastas. Ao criar pastas, estas podem conter subpastas, contudo, existe um limite de quantas pastas e subpastas podem ser criadas no Windows, que dependerá do tamanho de memória RAM disponível.

IV - Os nomes de pastas do sistema como “Arquivos de Programas” ou “System32” não podem ser alterados, pois são necessários para a execução correta do Windows.

Está correto o que se afirma em:

- A) I
- B) I e IV
- C) I, III e IV
- D) II e IV
- E) III

**27.** Qual das opções abaixo NÃO faz parte do Menu “Inserir” do LibreOffice Writer:

- A) Quebra manual
- B) Quadro
- C) Nova Janela
- D) Figura
- E) Tabela

**28.** Ao inserir a operação a seguir em qualquer célula do LibreOffice Calc, qual valor será exibido:

$$=10*2-3/2$$

- A) 18,5
- B) 8,5
- C) 4,5
- D) 20
- E) Nenhum valor, pois a operação está errada.

**29.** Acerca do recurso de Sincronização do Google Chrome é INCORRETO afirmar que:

- A) Ativando o recurso de Sincronização do Google Chrome, o usuário poderá ver e atualizar as informações sincronizadas em todos dispositivos que possui, como favoritos, histórico, senhas e outras configurações.
- B) Para utilizar o recurso de Sincronização do Google Chrome o usuário deverá possuir uma conta do Google.
- C) Se quiser, o usuário poderá sincronizar mais de uma conta adicionando um perfil no Chrome.
- D) Para ativar a sincronização de Conta, o usuário deverá selecionar a opção “Perfil”. Após entrar com sua Conta Google, selecionar a opção “Ativar Sincronização” e depois “Ativar”.
- E) Para desativar a sincronização do Google Chrome o usuário deverá selecionar a opção “Ferramentas”, identificar qual a conta deseja desativar e em seguida selecionar a opção “Excluir”.

**30.** Acerca dos componentes do computador marque a alternativa INCORRETA:



- A) O Disco rígido consiste no componente em que armazenamos os dados do nosso computador de forma provisória, ou seja, os dados são apagados quando o computador é desligado.
- B) A Placa-mãe é uma placa de circuito impresso na qual conectamos os principais componentes do computador.

- C) O processador é considerado o cérebro do computador, pois é o responsável por executar os programas e controlar as operações como um todo.
- D) A Placa de vídeo é uma placa de circuito responsável pela geração de imagens que chegam ao monitor;
- E) A memória ROM é uma memória que aceita apenas a leitura.

## CONHECIMENTOS ESPECÍFICOS

**31.** Dentre as precauções durante a construção do escoramento de uma laje de concreto armado (laje maciça), para evitar recalques prejudiciais no solo ou na estrutura que suporta o escoramento, está o uso de:

- A) vigas de sustentação  
B) pranchões.  
C) andaimes.  
D) escoramento metálico.  
E) escoramento madeira.

**32.** Utilizando a ferramenta AutoCAD, o comando que exhibe o comprimento de uma linha selecionada e que não tem efeito sobre objetos fechados é:

- A) Scale.  
B) List.  
C) Stretch.  
D) Layers.  
E) Lengthen.

**33.** As britas, após passarem em peneiras previamente selecionadas, são classificadas de acordo com seu diâmetro médio, variável de:

- A) 0,1 a 0,4 mm.  
B) 0,3 a 1,2 mm.  
C) 1,2 a 4,8 mm.  
D) 4,8 a 76 mm.  
E) 0,3 a 1,6 mm.

**34.** O formato final do dobramento de cópias de desenhos formatos A0, A1, A2 e A3, segundo recomendações da NBR 10582:1988, deve ser o formato:

- A) Tablóide.  
B) A3.  
C) A2.  
D) A4.  
E) Ofício.

**35.** A classificação das argamassas em pobres ou magras, cheias e ricas ou gordas é usada, respectivamente:

- A) Quando a argamassa possui resistência à compressão menor que a desejada, exatamente a resistência à compressão desejada e resistência à compressão maior que a desejada.  
B) Quando o volume de pasta não é suficiente para o preenchimento dos vazios, quando os vazios são exatamente

preenchidos pela pasta, quando houver um volume maior de pasta do que de vazios.

C) Quando o volume de vazios é maior do que o volume de agregado, quando o volume de vazios é igual ao volume de agregados, quando o volume de vazios é menor do que o volume de agregados.

D) Quando a água prevista no traço da argamassa não é suficiente para hidratar a argamassa, quando a água prevista está em quantidade correta para a hidratação da argamassa, quando a quantidade de água é maior que a necessária para a hidratação da argamassa.

E) Quando a argamassa possui pouca trabalhabilidade, quando a argamassa possui a trabalhabilidade suficiente para sua utilização e quando a trabalhabilidade da argamassa é alta.

**36.** A NBR NM 67 de 1998 apresenta, em um dos seus tópicos, o procedimento executivo descrito a seguir: Compactar cada camada com 25 golpes da haste de socamento. Distribuir uniformemente os golpes sobre a seção de cada camada. Para a compactação da camada inferior, é necessário inclinar levemente a haste e efetuar cerca de metade dos golpes em forma de espiral até o centro. Compactar a camada inferior em toda a sua espessura. Compactar a segunda camada e a camada superior, cada uma através de toda sua espessura e de forma que os golpes apenas penetrem na camada anterior. No preenchimento e na compactação da camada superior, acumular o concreto sobre o molde, antes de iniciar o adensamento. Se, durante a operação de compactação, a superfície do concreto ficar abaixo da borda do molde, adicionar mais concreto para manter um excesso sobre a superfície do molde durante toda a operação da camada superior, rasar a superfície do concreto com uma desempenadeira e com movimentos rolantes da haste de compactação.

Assinale a alternativa que apresenta o ensaio descrito.

- A) Determinação da consistência pelo abatimento do tronco de cone.  
B) Ensaio de esclerometria.  
C) Ensaio de absorção e permeabilidade do concreto.  
D) Ensaio de termografia infravermelha.  
E) Ensaio de resistência à penetração.

**37.** São características do Betume:

- A) Termoplástico e inerte sem possibilidade de reciclagem.  
B) Termoplásticos, sendo facilmente fundidos e solidificados, possuem ponto de fusão, amolecendo em temperaturas variadas.  
C) Adesivos e aglomerantes que necessitam do uso de água, ao contrário dos aglomerantes minerais;

D) Possui durabilidade variável influenciada principalmente pela radiação solar.

E) Hidrófugo e, portanto, absorve a água.

**38.** O que se entende por Impermeabilidade:

A) Capacidade de um material para evitar a passagem de fluidos sob determinada pressão.

B) Capacidade de um material para evitar a passagem de fluidos sob determinada ação.

C) Capacidade de um material para permitir a passagem de fluidos sob determinada tração.

D) Capacidade de um material para permitir a passagem de fluidos sob determinada compressão.

E) Capacidade de um material para evitar a passagem de fluidos sob determinada tração e compressão.

**39.** No que se refere às alvenarias com blocos de gesso, indique o tipo de bloco com capacidade de absorver cargas suspensas e ser hidro-repelente:

A) Bloco reforçado com fibra de vidro (GRG)

B) Bloco standard reforçado com fibra de vidro (SG).

C) Bloco hidrofugado (H).

D) Bloco reforçado com fibra de vidro e hidrófugos (GRGH).

E) Bloco hidrofugado reforçado com fibra de carbono (HC).

**40.** Assinale a alternativa que não é caracterizada como um cuidado importante na fase de adensamento do concreto.

A) Lançar o concreto em camadas de no máximo 50 cm (30 cm é o recomendável), compatíveis com o comprimento do vibrador de imersão.

B) Deverá ser vibrado o maior número possível de pontos da peça que está sendo concretada.

C) Introduzir e retirar o vibrador de forma lenta, fazendo com que a cavidade deixada pela agulha seja fechada novamente.

D) Deixar o vibrador por 15 segundos, no máximo, num mesmo ponto.

E) A aplicação deverá ser realizada com o vibrador sempre na horizontal.

**41.** Considerando as recomendações da NR 18, sobre o Programa de Condições e Meio Ambiente de Trabalho na Indústria da Construção – PCMAT, assinale a alternativa INCORRETA.

A) São obrigatórios a elaboração e o cumprimento do PCMAT nos estabelecimentos com 20 (vinte) trabalhadores ou mais, contemplando os aspectos desta NR e outros dispositivos complementares de segurança.

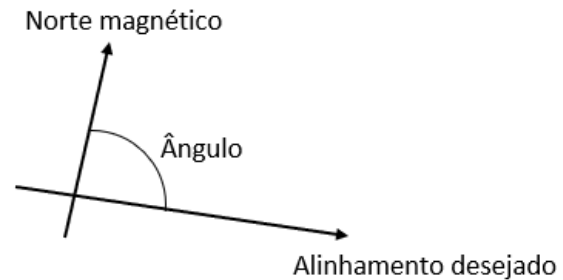
B) São obrigatórios a elaboração e o cumprimento do PCMAT nos estabelecimentos com 10 (dez) trabalhadores ou mais, contemplando os aspectos desta NR e outros dispositivos complementares de segurança.

C) O PCMAT deve ser elaborado e executado por profissional legalmente habilitado na área de segurança do trabalho.

D) O cronograma de implantação das medidas preventivas definidas no PCMAT é um dos documentos que integra o PCMAT.

E) O PCMAT deve contemplar as exigências contidas na NR 9 - Programa de Prevenção e Riscos Ambientais.

**42.** O ângulo formado, em um plano vertical, pelo norte magnético e o alinhamento desejado, medido a partir do norte magnético no sentido horário e de acordo com a figura a seguir, é denominado:



A) Rumo.

B) Prumo.

C) Azimute.

D) Ângulo vertical.

E) Contra-azimute.

**43.** Para execução de revestimentos em alvenaria, qual a função do chapisco? Marque a alternativa correta.

A) Tem a função de impermeabilizar a parede contra intemperes.

B) O chapisco não é uma etapa de revestimentos de alvenaria.

C) Tem a função de planificar a alvenaria para que seja executado o revestimento cerâmico logo em seguida.

D) Tem a função de criar uma superfície rugosa para que seja executado o emboço ou reboco logo em seguida.

E) Nenhuma das alternativas está correta.

**44.** Para o escoamento das águas pluviais são utilizados condutores do tipo:

A) Calhas, Coletores, Rufos e Rincões.

B) Calhas, Coletores, Ripas e Rincões.

C) Calhas, Coletores, Rufos e Beiral.

D) Calhas, Coletores, Cumeeira e Terças.

E) Calhas, Coletores, Espigão e Rincões.

**45.** Em se tratando dos revestimentos cerâmicos, o número PEI (Porcelain Enamel Institute) encontrado na sua classificação significa:

A) Temperatura de cozimento de toda cerâmica.

B) Resistência à tração simples da cerâmica.

C) Resistência da cerâmica quanto à abrasão.

D) Indica o alto desempenho das cerâmicas para uso em pavimentos e estacionamentos.

E) Grau de impermeabilização obtido na superfície com uso da cerâmica.

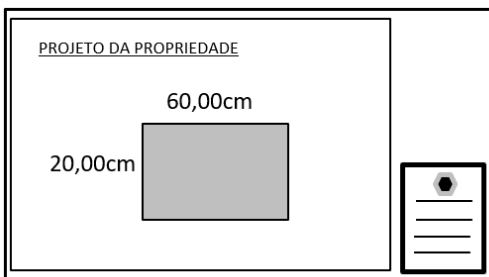
46. O procedimento de conservar úmidas as superfícies do concreto expostas às condições climáticas que provocam uma secagem prematura ou perda de água de amassamento, chamamos de:

- A) Adensamento
- B) Lançamento
- C) Aditivção de superfície
- D) Cura
- E) Pega

47. Em se tratando das propriedades térmicas de um polímero, é correto afirmar:

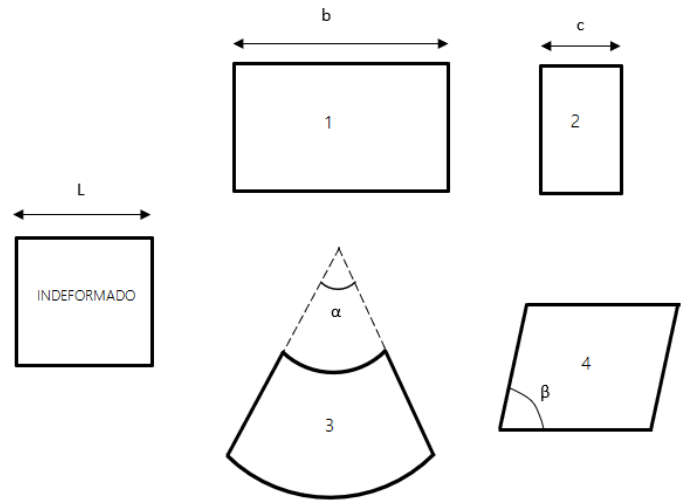
- A) Possuem baixa condutividade térmica e altos coeficientes de dilatação térmica linear quando comparados a materiais não poliméricos.
- B) Possuem alta condutividade térmica e baixos coeficientes de dilatação térmica linear quando comparados a materiais não poliméricos.
- C) Possuem baixa condutividade térmica e baixos coeficientes de dilatação térmica quando comparados a materiais não poliméricos.
- D) Possuem baixa condutividade térmica e altos coeficientes de dilatação volumétrica quando comparados a materiais não poliméricos.
- E) Possuem alta condutividade térmica e altos coeficientes de dilatação térmica volumétrica quando comparados a materiais não poliméricos.

48. Um técnico em edificações necessita da medida da área de uma propriedade retangular e está de posse do seu projeto, que está em escala de 1:50. Quando o profissional faz as medições dos lados da propriedade com uma régua diretamente no projeto, que não possui cotas, são obtidos os valores de 20,00cm e 60,00cm, como apresentado na figura abaixo (os valores apresentados na figura não são cotas e sim os valores da medição realizada pelo profissional). Sendo assim, a área real da propriedade é:



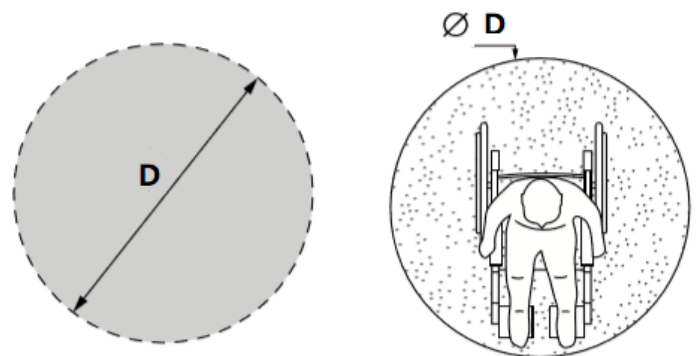
- A) 30.000.000cm<sup>2</sup>.
- B) 3m<sup>2</sup>.
- C) 30m<sup>2</sup>.
- D) 300m<sup>2</sup>.
- E) 300cm<sup>2</sup>.

49. A figura a seguir apresenta as deformações de um elemento estrutural. Considerando que  $b > L$  e  $c < L$  as deformações sofridas pelo elemento (INDEFORMADO) são:



- A) 1-Compressão, 2-Tração, 3-Flexão, 4-Torção.
- B) 1-Cisalhamento, 2-Tração, 3-Flexão, 4-Compressão.
- C) 1-Tração, 2-Compressão, 3-Flexão, 4-Cisalhamento.
- D) 1-Tração, 2-Compressão, 3-Cisalhamento, 4-Flexão.
- E) 1-Flexão, 2-Cisalhamento, 3-Tração, 4-Compressão.

50. De acordo com a NBR 9050 de 2015, a medida necessária para a manobra de cadeira de rodas sem deslocamento, representada pela letra D na figura, é de:



- A) 1,55m
- B) 1,50m
- C) 1,40m
- D) 1,20m
- E) 1,30m